

NON ESTRATTO

TEMA n° 2

PROVA PRATICA

Sviluppi il candidato alla scala esecutiva il prospetto e la sezione di un edificio in linea di cui è indicata la pianta tipo e la sezione.

Si richiedono:

- 1 prospetto quotato
- 2 sezione quotata
- 3 particolari costruttivi del prospetto e della sezione di un interpiano con indicazione dei materiali e degli elementi componenti

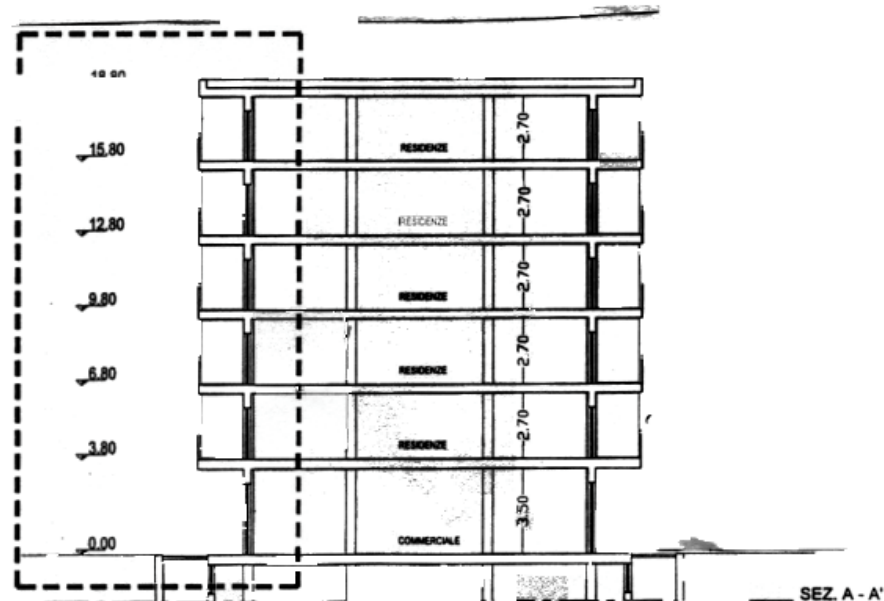
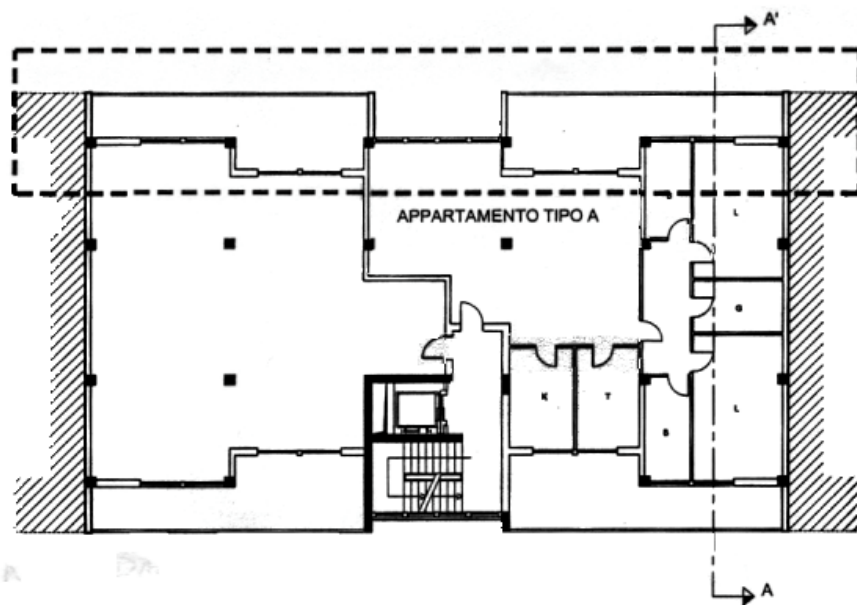
rapp. 1:50

rapp. 1:50

rapp. 1:20

1° PROVA SCRITTA

Sviluppi il candidato il computo metrico delle quantità relative a: murature esterne rivestimenti esterni, tinteggiature, infissi, soglie e parapetti.



TEMA PER ESERCITAZIONI- architetti iunior

Esercitazioni Applicative novembre 2007: Redazione ex-tempore.

PROVA PRATICA

Il candidato, individui la scala del disegno ed elabori l'esecutivo in scala 1:50 del progetto dato.

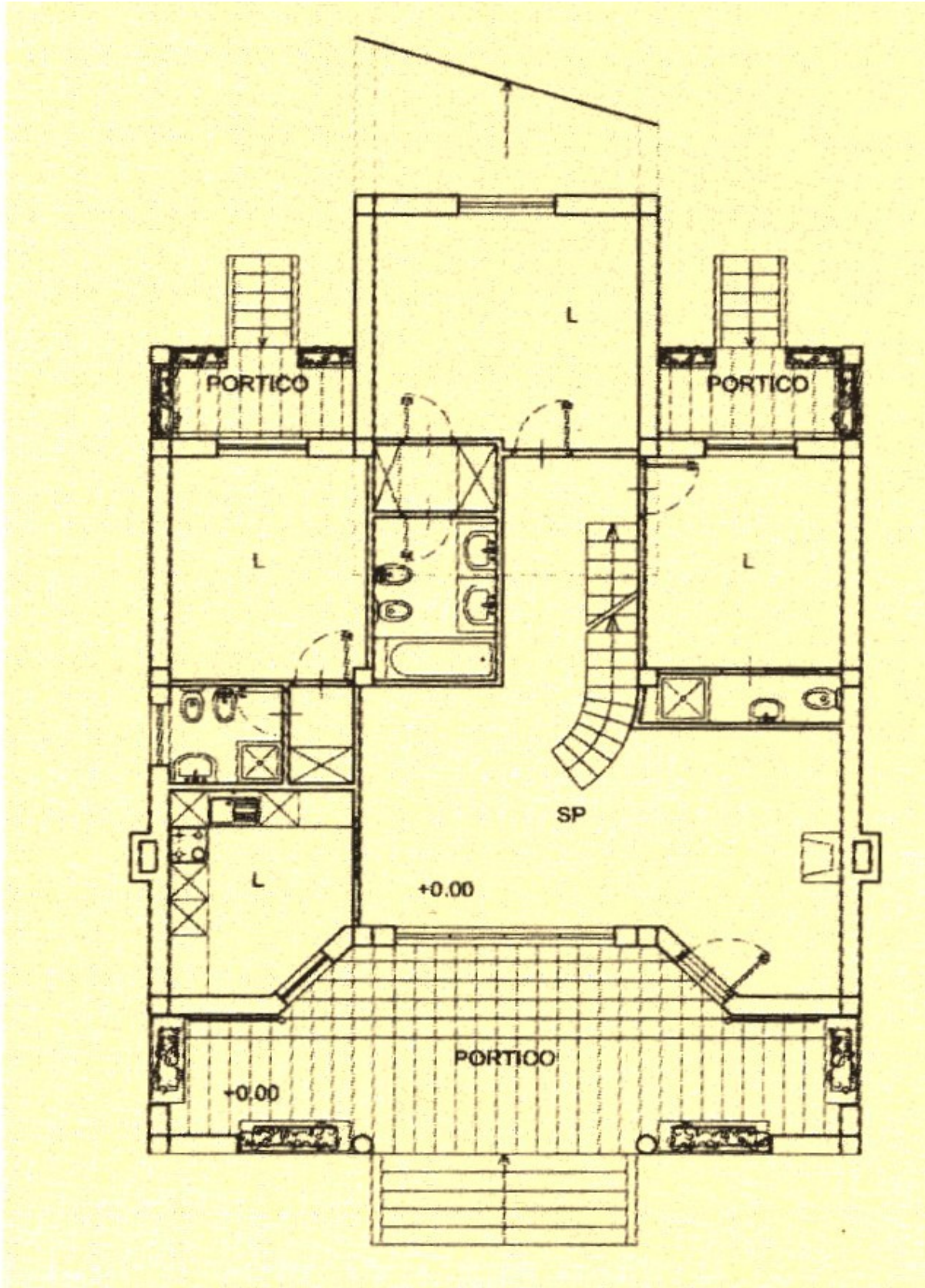
- Piante quotate
- Carpenteria del piano terra
- Pianta coperture
- N. 1 Sezione longitudinale o trasversale (a scelta del candidato)
- Prospetti con l'indicazione dei materiali
- Prospettiva a mano libera dell'ipotesi volumetrica

Si richiede la scelta di soluzioni tecniche per i dettagli costruttivi in scala 1:20. Dovranno essere elaborati almeno due dettagli a scelta del candidato.

1° Prova scritta

Elaborazione di uno schema di computo metrico delle quantità riferite al progetto elaborato

PIANTA PIANO TERRA (FUORI SCALA)



PIANTA PRIMO LIVELLO (FUORI SCALA)

